






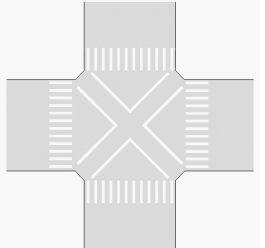

# 新增交通標誌、標線、號誌

## 〔是非題〕

標準答案	題號	圖示	問題內容
○	001		左圖標誌表示該標誌與前方交流道出口距離為2,000公尺

## 〔選擇題〕

標準答案	題號	圖示	問題內容
1	001		圖中最外側的路面邊線與車道線中間的白色實線為何種標線？(1) 快慢車道分隔線。(2) 行車方向線。(3) 雙方禁止超車線。
1	002		(1) 當心自行車。(2) 當心行人。(3) 當心機器腳踏車。
3	003		(1) 近鐵路平交道。(2) 高(快)速公路車輛保持距離。(3) 高(快)速公路出口距離。
1	004		(1) 高(快)速公路交流道名稱。(2) 地名里程。(3) 高(快)速公路出口距離。
3	005		(1) 產業道路。(2) 縣道。(3) 鄉道。
2	006		(1) 一般省道路線編號標誌。(2) 省道快速公路路線編號標誌。(3) 最高速限標誌。
1	007		(1) 停車處。(2) 公園。(3) 迴轉道。
1	008		(1) 捷運車站。(2) 鐵路車站。(3) 高速鐵路車站。

1	009		(1) 港埠。(2) 渡口。(3) 修理站。
2	010		(1) 捷運車站。(2) 鐵路車站。(3) 高速鐵路車站。
3	011		(1) 捷運車站。(2) 鐵路車站。(3) 高速鐵路車站。
1	012		(1) 公路汽車客運車站。(2) 捷運車站。(3) 計程車招呼站。
1	013		(1) 車道指定自行車專行。(2) 車道指定電動自行車專行。(3) 車道指定機器腳踏車專行。
1	014		圖中路口交叉型標線是？(1) 對角線行人穿越道線。(2) 網狀線。(3) 自行車穿越道線。
1	015		駕駛人如果在道路上發現圖中的橫向標線時，應該如何反應？(1) 減速慢行。(2) 加速通過。(3) 檢查輪胎。

## 新增汽車警示（告）燈圖示

標準答案	題號	圖示	問題內容
0	001		煞車系統警示燈
X	001		ABS 警示燈
0	002		充電警示燈
X	002		引擎故障警示燈
0	003		低機油壓力警示燈
X	003		低燃油油位警示燈
0	004		引擎故障警示燈
X	004		充電警示燈
0	005		低燃油油位警示燈
X	005		低機油壓力警示燈
0	006		車門開啟警示燈
X	006		轉向指示燈
0	007		轉向指示燈
X	007		示寬指示燈
0	008		遠光指示燈
X	008		霧燈指示燈
0	009		安全帶警示燈
X	009		氣囊警示燈
0	010		危險警告燈按鈕
X	010		三角警示架